

(C) MERLIN Didakt GmbH



Square Board

Auftragskarten



MERLIN Didakt GmbH

Deutschland:

Tesla Str. 6
D-74670 Forchtenberg
Tel.: +49-(0)7947-9123-45
Fax: +49-(0)7947-9123-66

Österreich:

Grazer Str. 21a
AT-8630 Mariazell
Tel.: +43-(0)3882-431-44
Fax: +43-(0)3882-431-77

Schweiz:

Feffetstr. 14
CH-9464 Rüthi
Tel.: +41-(0)55-44268-37
Fax: +41-(0)55-44268-38

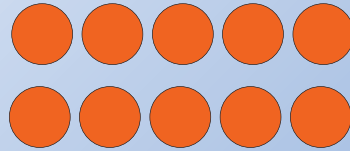
www.my-merlin.com • www.facebook.com/merlin.world

- Bearbeite die Auftragskarte!
- Schreibe das Ergebnis auf!



Lege **5 rote** Plättchen!
Lege die gleiche Anzahl darunter.
Wie viele Plättchen hast du?

Lösungskarte



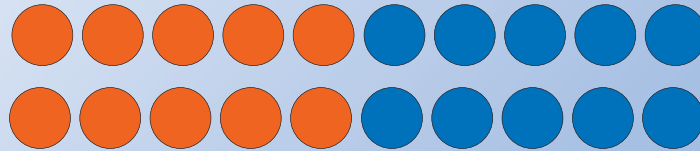
Insgesamt sind es 10 Plättchen.

- Bearbeite die Auftragskarte!
- Schreibe das Ergebnis auf!



Lege **5 rote** und **5 blaue** Plättchen!
Lege die gleiche Anzahl darunter.
Wie viele Plättchen hast du?

Lösungskarte



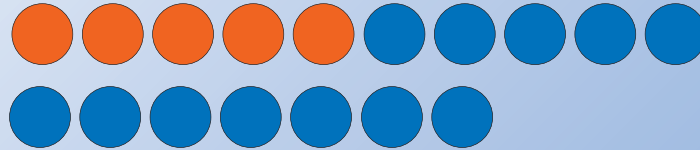
Insgesamt sind es 20 Plättchen.

- Bearbeite die Auftragskarte!
- Schreibe das Ergebnis auf!



Lege **5 rote** und **12 blaue** Plättchen!
Wie viele Plättchen hast du?

Lösungskarte




Insgesamt sind es 17 Plättchen.

- Bearbeite die Auftragskarte!
- Schreibe das Ergebnis auf!



Lege **10 rote** und **10 blaue** Plättchen!
Lege die gleiche Anzahl darunter.
Wie viele Plättchen hast du?

Lösungskarte




Insgesamt sind es 40 Plättchen.

- Bearbeite die Auftragskarte!
- Schreibe das Ergebnis auf!



Lege **10 rote** und **10 blaue** Plättchen!
Nimm 5 rote und 5 blaue Plättchen weg.
Wie viele Plättchen hast du?

Lösungskarte




Es bleiben 10 Plättchen übrig.

- Bearbeite die Auftragskarte!
- Schreibe das Ergebnis auf!



Lege **10 rote** und **10 blaue** Plättchen!
Verdopple die Anzahl der roten Plättchen.
Wie viele Plättchen hast du?

Lösungskarte



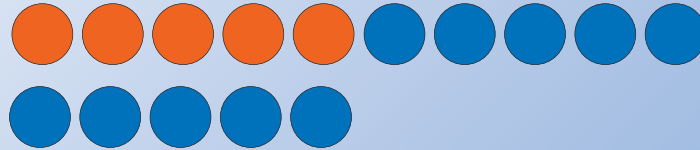
Insgesamt sind es 30 Plättchen.

- Bearbeite die Auftragskarte!
- Schreibe das Ergebnis auf!



Lege **5 rote** Plättchen!
Lege doppelt so viele blaue Plättchen dazu.
Wie viele Plättchen hast du?

Lösungskarte




Insgesamt sind es 15 Plättchen.

- Bearbeite die Auftragskarte!
- Schreibe das Ergebnis auf!



Lege **25 rote** Plättchen!
Lege gleich viele blaue Plättchen darunter.
Wie viele Plättchen hast du?

Lösungskarte




Insgesamt sind es 50 Plättchen.

- Bearbeite die Auftragskarte!
- Schreibe das Ergebnis auf!



Lege **25 rote** Plättchen!
Lege 5 blaue Plättchen dazu.
Wie viele Plättchen hast du?

Lösungskarte



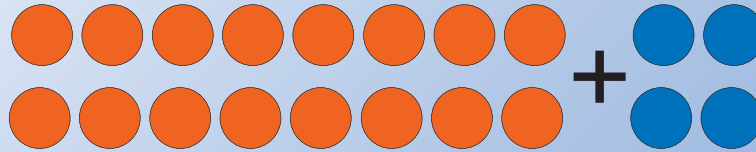
Insgesamt sind es 30 Plättchen.

- Bearbeite die Auftragskarte!
- Schreibe das Ergebnis auf!



Lege **8 rote** Plättchen!
Verdopple die Anzahl der roten Plättchen.
Wie viele Plättchen musst du noch dazu legen,
dass du 20 Plättchen hast?

Lösungskarte




Ich benötige noch 4 Plättchen.

- Bearbeite die Auftragskarte!
- Schreibe das Ergebnis auf!



Lege **40 rote** Plättchen!
Nimm die Hälfte der roten Plättchen weg.
Wie viele Plättchen hast du?

Lösungskarte




Es bleiben noch 20 Plättchen übrig.

- Bearbeite die Auftragskarte!
- Schreibe das Ergebnis auf!



Lege **25 rote** Plättchen!
Lege noch 5 blaue Plättchen dazu.
Wie viele Plättchen fehlen,
dass du 50 Plättchen hast?

Lösungskarte



Es fehlen noch 20 Plättchen.